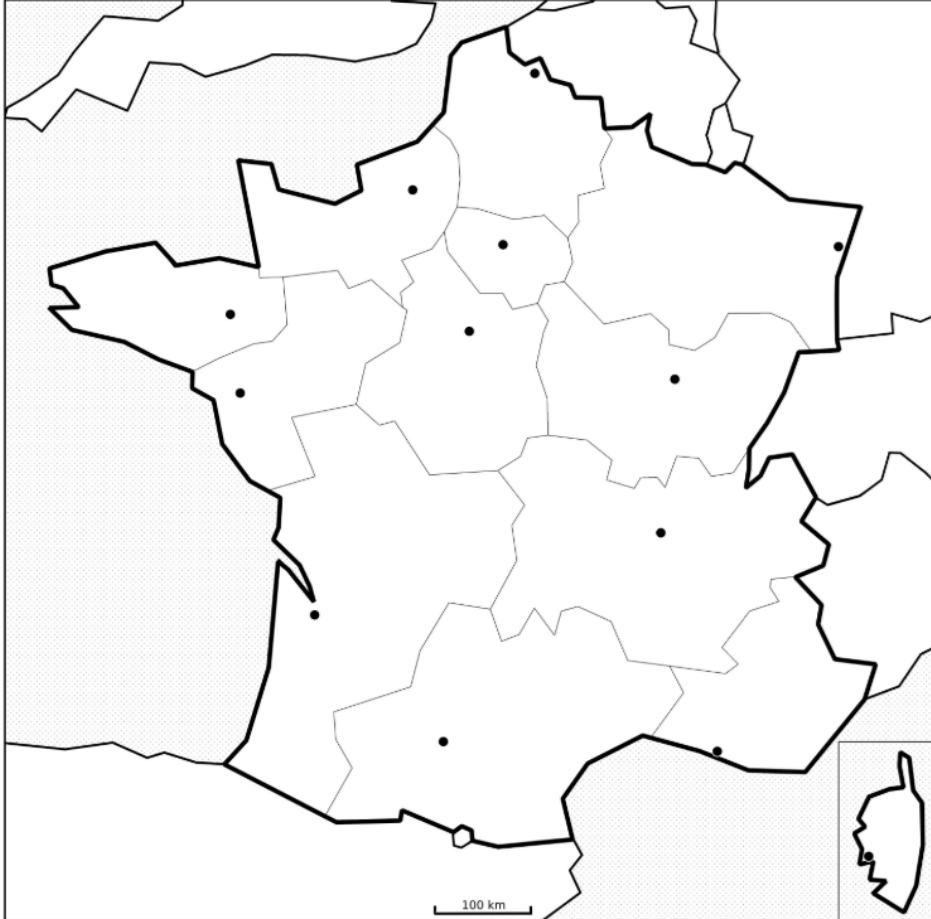


Activité Géographie 3<sup>e</sup> Savoir faire : Réaliser un croquis et utiliser un document

Titre : **La France, son territoire et ses aires urbaines**



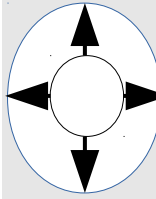
Consigne :

Complétez la carte

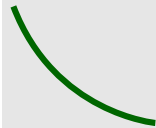
Les espaces



**Métropole mondiale**  
et ville Globale



**Grandes aires urbaines,** extension et augmentation des déplacements quotidiens.



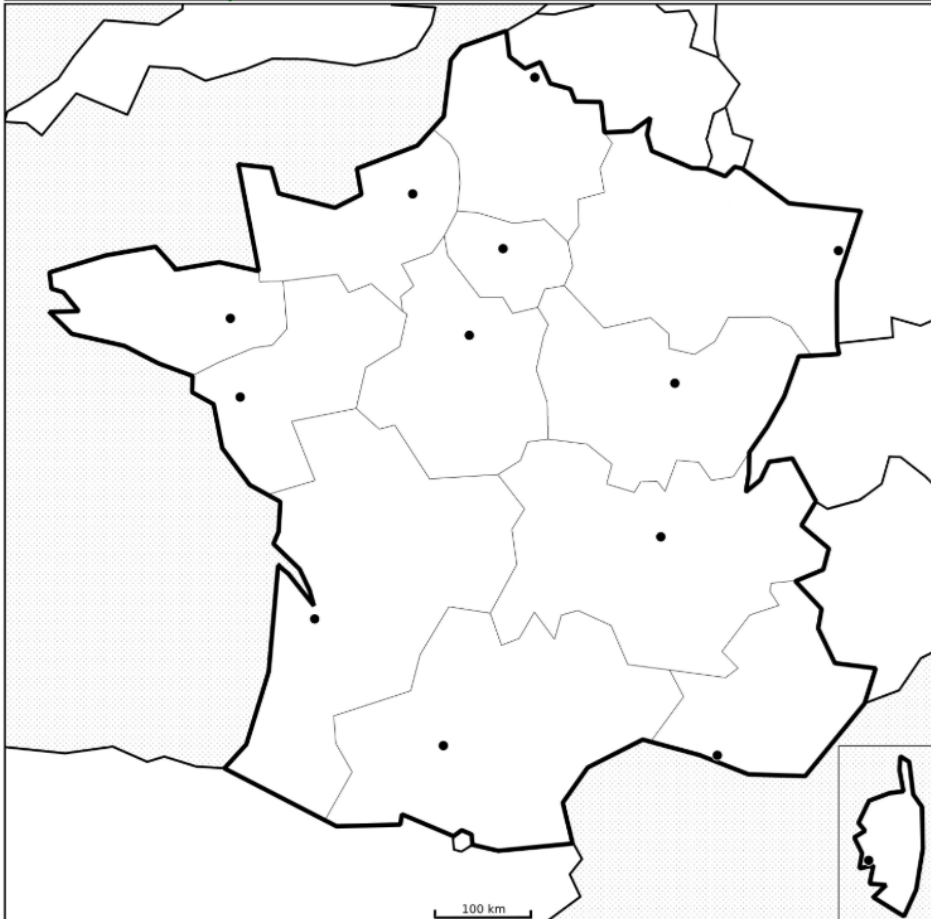
Aires urbaines en forte croissance au Sud de la ligne.

**Diagonale du vide,** zone peu densément peuplée

Grands axes européens

Activité Géographie 3<sup>e</sup> Savoir faire : Réaliser un croquis et utiliser un document

Titre : **La France, son territoire et ses aires urbaines**



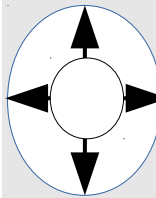
Consigne :

Complétez la carte

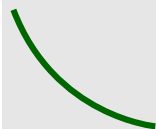
Les espaces



**Métropole mondiale**  
et ville Globale



**Grandes aires urbaines,** extension et augmentation des déplacements quotidiens.



Aires urbaines en forte croissance au Sud de la ligne.

**Diagonale du vide,** zone peu densément peuplée

Grands axes européens